



**Муниципальное бюджетное общеобразовательное учреждение
«Карагайская средняя общеобразовательная школа №1»**

РАССМОТРЕНО
на заседании ШМО
учителей предметов
естественно-научного
цикла

Е.П. Тиунова
Протокол № 1 от 28.08
2023г.

СОГЛАСОВАНО
Заместитель директора по
УВР

Козоногова И.А.
29.08. 2023г.

УТВЕРЖДЕНО
Директор

Васильева С.А.
Приказ № 5090 от 31.08.
2023г.



РАБОЧАЯ ПРОГРАММА
учебного предмета «Алгебра»
для обучающихся 7-9 классов

с. Карагай, 2023

ПОЯСНИТЕЛЬНАЯ ЗАПИСКА

Алгебра является одним из опорных курсов основного общего образования: она обеспечивает изучение других дисциплин, как естественно-научного, так и гуманитарного циклов, её освоение необходимо для продолжения образования и в повседневной жизни. Развитие у обучающихся научных представлений о происхождении и сущности алгебраических абстракций, способе отражения математической наукой явлений и процессов в природе и обществе, роли математического моделирования в научном познании и в практике способствует формированию научного мировоззрения и качеств мышления, необходимых для адаптации в современном цифровом обществе. Изучение алгебры обеспечивает развитие умения наблюдать, сравнивать, находить закономерности, требует критичности мышления, способности аргументированно обосновывать свои действия и выводы, формулировать утверждения. Освоение курса алгебры обеспечивает развитие логического мышления обучающихся: они используют дедуктивные и индуктивные рассуждения, обобщение и конкретизацию, абстрагирование и аналогию. Обучение алгебре предполагает значительный объём самостоятельной деятельности обучающихся, поэтому самостоятельное решение задач является реализацией деятельностного принципа обучения.

В структуре программы учебного курса «Алгебра» для основного общего образования основное место занимают содержательно-методические линии: «Числа и вычисления», «Алгебраические выражения», «Уравнения и неравенства», «Функции». Каждая из этих содержательно-методических линий развивается на протяжении трёх лет изучения курса, взаимодействуя с другими его линиями. В ходе изучения учебного курса обучающимся приходится логически рассуждать, использовать теоретико-множественный язык. В связи с этим в программу учебного курса «Алгебра» включены некоторые основы логики, представленные во всех основных разделах математического образования и способствующие овладению обучающимися основ универсального математического языка. Содержательной и структурной особенностью учебного курса «Алгебра» является его интегрированный характер.

Содержание линии «Числа и вычисления» служит основой для дальнейшего изучения математики, способствует развитию у обучающихся логического мышления, формированию умения пользоваться алгоритмами, а также приобретению практических навыков, необходимых для повседневной жизни. Развитие понятия о числе на уровне основного общего образования связано с рациональными и иррациональными числами, формированием

представлений о действительном числе. Завершение освоения числовой линии отнесено к среднему общему образованию.

Содержание двух алгебраических линий – «Алгебраические выражения» и «Уравнения и неравенства» способствует формированию у обучающихся математического аппарата, необходимого для решения задач математики, смежных предметов и практико-ориентированных задач. На уровне основного общего образования учебный материал группируется вокруг рациональных выражений. Алгебра демонстрирует значение математики как языка для построения математических моделей, описания процессов и явлений реального мира. В задачи обучения алгебре входят также дальнейшее развитие алгоритмического мышления, необходимого, в частности, для освоения курса информатики, и овладение навыками дедуктивных рассуждений. Преобразование символьных форм способствует развитию воображения, способностей к математическому творчеству.

Содержание функционально-графической линии нацелено на получение обучающимися знаний о функциях как важнейшей математической модели для описания и исследования разнообразных процессов и явлений в природе и обществе. Изучение материала способствует развитию у обучающихся умения использовать различные выразительные средства языка математики – словесные, символические, графические, вносит вклад в формирование представлений о роли математики в развитии цивилизации и культуры.

Согласно учебному плану в 7–9 классах изучается учебный курс «Алгебра», который включает следующие основные разделы содержания: «Числа и вычисления», «Алгебраические выражения», «Уравнения и неравенства», «Функции».

На изучение учебного курса «Алгебра» отводится 306 часов: в 7 классе – 102 часа (3 часа в неделю), в 8 классе – 102 часа (3 часа в неделю), в 9 классе – 102 часа (3 часа в неделю).

СОДЕРЖАНИЕ ОБУЧЕНИЯ

7 КЛАСС

Числа и вычисления

Дроби обыкновенные и десятичные, переход от одной формы записи дробей к другой. Понятие рационального числа, запись, сравнение, упорядочивание рациональных чисел. Арифметические действия с рациональными числами. Решение задач из реальной практики на части, на дроби.

Степень с натуральным показателем: определение, преобразование выражений на основе определения, запись больших чисел. Проценты, запись процентов в виде дроби и дроби в виде процентов. Три основные задачи на проценты, решение задач из реальной практики.

Применение признаков делимости, разложение на множители натуральных чисел.

Реальные зависимости, в том числе прямая и обратная пропорциональности.

Алгебраические выражения

Переменные, числовое значение выражения с переменной. Допустимые значения переменных. Представление зависимости между величинами в виде формулы. Вычисления по формулам. Преобразование буквенных выражений, тождественно равные выражения, правила преобразования сумм и произведений, правила раскрытия скобок и приведения подобных слагаемых.

Свойства степени с натуральным показателем.

Одночлены и многочлены. Степень многочлена. Сложение, вычитание, умножение многочленов. Формулы сокращённого умножения: квадрат суммы и квадрат разности. Формула разности квадратов. Разложение многочленов на множители.

Уравнения и неравенства

Уравнение, корень уравнения, правила преобразования уравнения, равносильность уравнений.

Линейное уравнение с одной переменной, число корней линейного уравнения, решение линейных уравнений. Составление уравнений по условию задачи. Решение текстовых задач с помощью уравнений.

Линейное уравнение с двумя переменными и его график. Система двух линейных уравнений с двумя переменными. Решение систем уравнений способом подстановки. Примеры решения текстовых задач с помощью систем уравнений.

Функции

Координата точки на прямой. Числовые промежутки. Расстояние между двумя точками координатной прямой.

Прямоугольная система координат, оси Ox и Oy . Абсцисса и ордината точки на координатной плоскости. Примеры графиков, заданных формулами. Чтение графиков реальных зависимостей. Понятие функции. График функции. Свойства функций. Линейная функция, её график. График функции $y = |x|$. Графическое решение линейных уравнений и систем линейных уравнений.

8 КЛАСС

Числа и вычисления

Квадратный корень из числа. Понятие об иррациональном числе. Десятичные приближения иррациональных чисел. Свойства арифметических квадратных корней и их применение к преобразованию числовых выражений и вычислениям. Действительные числа.

Степень с целым показателем и её свойства. Стандартная запись числа.

Алгебраические выражения

Квадратный трёхчлен, разложение квадратного трёхчлена на множители.

Алгебраическая дробь. Основное свойство алгебраической дроби. Сложение, вычитание, умножение, деление алгебраических дробей. Рациональные выражения и их преобразование.

Уравнения и неравенства

Квадратное уравнение, формула корней квадратного уравнения. Теорема Виета. Решение уравнений, сводящихся к линейным и квадратным. Простейшие дробно-рациональные уравнения.

Графическая интерпретация уравнений с двумя переменными и систем линейных уравнений с двумя переменными. Примеры решения систем нелинейных уравнений с двумя переменными.

Решение текстовых задач алгебраическим способом.

Числовые неравенства и их свойства. Неравенство с одной переменной. Равносильность неравенств. Линейные неравенства с одной переменной. Системы линейных неравенств с одной переменной.

Функции

Понятие функции. Область определения и множество значений функции. Способы задания функций.

График функции. Чтение свойств функции по её графику. Примеры графиков функций, отражающих реальные процессы.

Функции, описывающие прямую и обратную пропорциональные зависимости, их графики. Функции $y = x^2$, $y = x^3$, $y = \sqrt{x}$, $y = |x|$. Графическое решение уравнений и систем уравнений.

9 КЛАСС

Числа и вычисления

Рациональные числа, иррациональные числа, конечные и бесконечные десятичные дроби. Множество действительных чисел, действительные числа как бесконечные десятичные дроби. Взаимно однозначное соответствие между множеством действительных чисел и координатной прямой.

Сравнение действительных чисел, арифметические действия с действительными числами.

Размеры объектов окружающего мира, длительность процессов в окружающем мире.

Приближённое значение величины, точность приближения. Округление чисел. Прикидка и оценка результатов вычислений.

Уравнения и неравенства

Линейное уравнение. Решение уравнений, сводящихся к линейным.

Квадратное уравнение. Решение уравнений, сводящихся к квадратным. Биквадратное уравнение. Примеры решения уравнений третьей и четвёртой степеней разложением на множители.

Решение дробно-рациональных уравнений. Решение текстовых задач алгебраическим методом.

Уравнение с двумя переменными и его график. Решение систем двух линейных уравнений с двумя переменными. Решение систем двух уравнений, одно из которых линейное, а другое – второй степени. Графическая интерпретация системы уравнений с двумя переменными.

Решение текстовых задач алгебраическим способом.

Числовые неравенства и их свойства.

Решение линейных неравенств с одной переменной. Решение систем линейных неравенств с одной переменной. Квадратные неравенства. Графическая интерпретация неравенств и систем неравенств с двумя переменными.

Функции

Квадратичная функция, её график и свойства. Парабола, координаты вершины параболы, ось симметрии параболы.

Графики функций: $y = kx$, $y = kx + b$, $y = k/x$, $y = x^3$, $y = \sqrt{x}$, $y = |x|$ и их свойства.

Числовые последовательности и прогрессии

Понятие числовой последовательности. Задание последовательности рекуррентной формулой и формулой n -го члена.

Арифметическая и геометрическая прогрессии. Формулы n -го члена арифметической и геометрической прогрессий, суммы первых n членов.

Изображение членов арифметической и геометрической прогрессий точками на координатной плоскости. Линейный и экспоненциальный рост. Сложные проценты.

ПЛАНИРУЕМЫЕ РЕЗУЛЬТАТЫ ОСВОЕНИЯ ПРОГРАММЫ УЧЕБНОГО КУРСА «АЛГЕБРА» НА УРОВНЕ ОСНОВНОГО ОБЩЕГО ОБРАЗОВАНИЯ

ЛИЧНОСТНЫЕ РЕЗУЛЬТАТЫ

Личностные результаты освоения программы учебного курса «Алгебра» характеризуются:

1) патриотическое воспитание:

проявлением интереса к прошлому и настоящему российской математики, ценностным отношением к достижениям российских математиков и российской математической школы, к использованию этих достижений в других науках и прикладных сферах;

2) гражданское и духовно-нравственное воспитание:

готовностью к выполнению обязанностей гражданина и реализации его прав, представлением о математических основах функционирования различных структур, явлений, процедур гражданского общества (например, выборы, опросы), готовностью к обсуждению этических проблем, связанных с практическим применением достижений науки, осознанием важности морально-этических принципов в деятельности учёного;

3) трудовое воспитание:

установкой на активное участие в решении практических задач математической направленности, осознанием важности математического образования на протяжении всей жизни для успешной профессиональной деятельности и развитием необходимых умений, осознанным выбором и построением индивидуальной траектории образования и жизненных планов с учётом личных интересов и общественных потребностей;

4) эстетическое воспитание:

способностью к эмоциональному и эстетическому восприятию математических объектов, задач, решений, рассуждений, умению видеть математические закономерности в искусстве;

5) ценности научного познания:

ориентацией в деятельности на современную систему научных представлений об основных закономерностях развития человека, природы и общества, пониманием математической науки как сферы человеческой деятельности, этапов её развития и значимости для развития цивилизации, овладением языком математики и математической культурой как средством познания мира, овладением простейшими навыками исследовательской деятельности;

б) физическое воспитание, формирование культуры здоровья и эмоционального благополучия:

готовностью применять математические знания в интересах своего здоровья, ведения здорового образа жизни (здоровое питание, сбалансированный режим занятий и отдыха, регулярная физическая активность), сформированностью навыка рефлексии, признанием своего права на ошибку и такого же права другого человека;

7) экологическое воспитание:

ориентацией на применение математических знаний для решения задач в области сохранности окружающей среды, планирования поступков и оценки их возможных последствий для окружающей среды, осознанием глобального характера экологических проблем и путей их решения;

8) адаптация к изменяющимся условиям социальной и природной среды:

готовностью к действиям в условиях неопределённости, повышению уровня своей компетентности через практическую деятельность, в том числе умение учиться у других людей, приобретать в совместной деятельности новые знания, навыки и компетенции из опыта других;

необходимостью в формировании новых знаний, в том числе формулировать идеи, понятия, гипотезы об объектах и явлениях, в том числе ранее неизвестных, осознавать дефициты собственных знаний и компетентностей, планировать своё развитие;

способностью осознавать стрессовую ситуацию, воспринимать стрессовую ситуацию как вызов, требующий контрмер, корректировать принимаемые решения и действия, формулировать и оценивать риски и последствия, формировать опыт.

МЕТАПРЕДМЕТНЫЕ РЕЗУЛЬТАТЫ

Познавательные универсальные учебные действия

Базовые логические действия:

- выявлять и характеризовать существенные признаки математических объектов, понятий, отношений между понятиями, формулировать определения понятий, устанавливать существенный признак классификации, основания для обобщения и сравнения, критерии проводимого анализа;
- воспринимать, формулировать и преобразовывать суждения: утвердительные и отрицательные, единичные, частные и общие, условные;

- выявлять математические закономерности, взаимосвязи и противоречия в фактах, данных, наблюдениях и утверждениях, предлагать критерии для выявления закономерностей и противоречий;
- делать выводы с использованием законов логики, дедуктивных и индуктивных умозаключений, умозаключений по аналогии;
- разбирать доказательства математических утверждений (прямые и от противного), проводить самостоятельно несложные доказательства математических фактов, выстраивать аргументацию, приводить примеры и контрпримеры, обосновывать собственные рассуждения;
- выбирать способ решения учебной задачи (сравнивать несколько вариантов решения, выбирать наиболее подходящий с учётом самостоятельно выделенных критериев).

Базовые исследовательские действия:

- использовать вопросы как исследовательский инструмент познания, формулировать вопросы, фиксирующие противоречие, проблему, самостоятельно устанавливать искомое и данное, формировать гипотезу, аргументировать свою позицию, мнение;
- проводить по самостоятельно составленному плану несложный эксперимент, небольшое исследование по установлению особенностей математического объекта, зависимостей объектов между собой;
- самостоятельно формулировать обобщения и выводы по результатам проведённого наблюдения, исследования, оценивать достоверность полученных результатов, выводов и обобщений;
- прогнозировать возможное развитие процесса, а также выдвигать предположения о его развитии в новых условиях.

Работа с информацией:

- выявлять недостаточность и избыточность информации, данных, необходимых для решения задачи;
- выбирать, анализировать, систематизировать и интерпретировать информацию различных видов и форм представления;
- выбирать форму представления информации и иллюстрировать решаемые задачи схемами, диаграммами, иной графикой и их комбинациями;
- оценивать надёжность информации по критериям, предложенным учителем или сформулированным самостоятельно.

Коммуникативные универсальные учебные действия:

- воспринимать и формулировать суждения в соответствии с условиями и целями общения, ясно, точно, грамотно выражать свою точку зрения в устных и письменных текстах, давать пояснения по ходу решения задачи, комментировать полученный результат;
- в ходе обсуждения задавать вопросы по существу обсуждаемой темы, проблемы, решаемой задачи, высказывать идеи, нацеленные на поиск решения, сопоставлять свои суждения с суждениями других участников диалога, обнаруживать различие и сходство позиций, в корректной форме формулировать разногласия, свои возражения;
- представлять результаты решения задачи, эксперимента, исследования, проекта, самостоятельно выбирать формат выступления с учётом задач презентации и особенностей аудитории;
- понимать и использовать преимущества командной и индивидуальной работы при решении учебных математических задач;
- принимать цель совместной деятельности, планировать организацию совместной работы, распределять виды работ, договариваться, обсуждать процесс и результат работы, обобщать мнения нескольких людей;
- участвовать в групповых формах работы (обсуждения, обмен мнениями, мозговые штурмы и другие), выполнять свою часть работы и координировать свои действия с другими членами команды, оценивать качество своего вклада в общий продукт по критериям, сформулированным участниками взаимодействия.

Регулятивные универсальные учебные действия

Самоорганизация:

- самостоятельно составлять план, алгоритм решения задачи (или его часть), выбирать способ решения с учётом имеющихся ресурсов и собственных возможностей, аргументировать и корректировать варианты решений с учётом новой информации.

Самоконтроль, эмоциональный интеллект:

- владеть способами самопроверки, самоконтроля процесса и результата решения математической задачи;
- предвидеть трудности, которые могут возникнуть при решении задачи, вносить коррективы в деятельность на основе новых обстоятельств, найденных ошибок, выявленных трудностей;
- оценивать соответствие результата деятельности поставленной цели и условиям, объяснять причины достижения или недостижения цели, находить ошибку, давать оценку приобретённому опыту.

ПРЕДМЕТНЫЕ РЕЗУЛЬТАТЫ

К концу обучения в 7 классе обучающийся получит следующие предметные результаты:

Числа и вычисления

Выполнять, сочетая устные и письменные приёмы, арифметические действия с рациональными числами.

Находить значения числовых выражений, применять разнообразные способы и приёмы вычисления значений дробных выражений, содержащих обыкновенные и десятичные дроби.

Переходить от одной формы записи чисел к другой (преобразовывать десятичную дробь в обыкновенную, обыкновенную в десятичную, в частности в бесконечную десятичную дробь).

Сравнивать и упорядочивать рациональные числа.

Округлять числа.

Выполнять прикидку и оценку результата вычислений, оценку значений числовых выражений. Выполнять действия со степенями с натуральными показателями.

Применять признаки делимости, разложение на множители натуральных чисел.

Решать практико-ориентированные задачи, связанные с отношением величин, пропорциональностью величин, процентами, интерпретировать результаты решения задач с учётом ограничений, связанных со свойствами рассматриваемых объектов.

Алгебраические выражения

Использовать алгебраическую терминологию и символику, применять её в процессе освоения учебного материала.

Находить значения буквенных выражений при заданных значениях переменных.

Выполнять преобразования целого выражения в многочлен приведением подобных слагаемых, раскрытием скобок.

Выполнять умножение одночлена на многочлен и многочлена на многочлен, применять формулы квадрата суммы и квадрата разности.

Осуществлять разложение многочленов на множители с помощью вынесения за скобки общего множителя, группировки слагаемых, применения формул сокращённого умножения.

Применять преобразования многочленов для решения различных задач из математики, смежных предметов, из реальной практики.

Использовать свойства степеней с натуральными показателями для преобразования выражений.

Уравнения и неравенства

Решать линейные уравнения с одной переменной, применяя правила перехода от исходного уравнения к равносильному ему. Проверять, является ли число корнем уравнения.

Применять графические методы при решении линейных уравнений и их систем.

Подбирать примеры пар чисел, являющихся решением линейного уравнения с двумя переменными.

Строить в координатной плоскости график линейного уравнения с двумя переменными, пользуясь графиком, приводить примеры решения уравнения.

Решать системы двух линейных уравнений с двумя переменными, в том числе графически.

Составлять и решать линейное уравнение или систему линейных уравнений по условию задачи, интерпретировать в соответствии с контекстом задачи полученный результат.

Функции

Изображать на координатной прямой точки, соответствующие заданным координатам, лучи, отрезки, интервалы, записывать числовые промежутки на алгебраическом языке.

Отмечать в координатной плоскости точки по заданным координатам, строить графики линейных функций. Строить график функции $y = |x|$.

Описывать с помощью функций известные зависимости между величинами: скорость, время, расстояние, цена, количество, стоимость, производительность, время, объём работы.

Находить значение функции по значению её аргумента.

Понимать графический способ представления и анализа информации, извлекать и интерпретировать информацию из графиков реальных процессов и зависимостей.

К концу обучения в 8 классе обучающийся получит следующие предметные результаты:

Числа и вычисления

Использовать начальные представления о множестве действительных чисел для сравнения, округления и вычислений, изображать действительные числа точками на координатной прямой.

Применять понятие арифметического квадратного корня, находить квадратные корни, используя при необходимости калькулятор, выполнять преобразования выражений, содержащих квадратные корни, используя свойства корней.

Использовать записи больших и малых чисел с помощью десятичных дробей и степеней числа 10.

Алгебраические выражения

Применять понятие степени с целым показателем, выполнять преобразования выражений, содержащих степени с целым показателем.

Выполнять тождественные преобразования рациональных выражений на основе правил действий над многочленами и алгебраическими дробями.

Раскладывать квадратный трёхчлен на множители.

Применять преобразования выражений для решения различных задач из математики, смежных предметов, из реальной практики.

Уравнения и неравенства

Решать линейные, квадратные уравнения и рациональные уравнения, сводящиеся к ним, системы двух уравнений с двумя переменными.

Проводить простейшие исследования уравнений и систем уравнений, в том числе с применением графических представлений (устанавливать, имеет ли уравнение или система уравнений решения, если имеет, то сколько, и прочее).

Переходить от словесной формулировки задачи к её алгебраической модели с помощью составления уравнения или системы уравнений, интерпретировать в соответствии с контекстом задачи полученный результат.

Применять свойства числовых неравенств для сравнения, оценки, решать линейные неравенства с одной переменной и их системы, давать графическую иллюстрацию множества решений неравенства, системы неравенств.

Функции

Понимать и использовать функциональные понятия и язык (термины, символические обозначения), определять значение функции по значению аргумента, определять свойства функции по её графику.

Строить графики элементарных функций вида:

$y = k/x$, $y = x^2$, $y = x^3$, $y = |x|$, $y = \sqrt{x}$, описывать свойства числовой функции по её графику.

К концу обучения в 9 классе обучающийся получит следующие предметные результаты:

Числа и вычисления

Сравнивать и упорядочивать рациональные и иррациональные числа.

Выполнять арифметические действия с рациональными числами, сочетая устные и письменные приёмы, выполнять вычисления с иррациональными числами.

Находить значения степеней с целыми показателями и корней, вычислять значения числовых выражений.

Округлять действительные числа, выполнять прикидку результата вычислений, оценку числовых выражений.

Уравнения и неравенства

Решать линейные и квадратные уравнения, уравнения, сводящиеся к ним, простейшие дробно-рациональные уравнения.

Решать системы двух линейных уравнений с двумя переменными и системы двух уравнений, в которых одно уравнение не является линейным.

Решать текстовые задачи алгебраическим способом с помощью составления уравнения или системы двух уравнений с двумя переменными.

Проводить простейшие исследования уравнений и систем уравнений, в том числе с применением графических представлений (устанавливать, имеет ли уравнение или система уравнений решения, если имеет, то сколько, и прочее).

Решать линейные неравенства, квадратные неравенства, изображать решение неравенств на числовой прямой, записывать решение с помощью символов.

Решать системы линейных неравенств, системы неравенств, включающие квадратное неравенство, изображать решение системы неравенств на числовой прямой, записывать решение с помощью символов.

Использовать неравенства при решении различных задач.

Функции

Распознавать функции изученных видов. Показывать схематически расположение на координатной плоскости графиков функций вида: $y = kx$, $y = kx + b$, $y = k/x$, $y = ax^2 + bx + c$, $y = x^3$, $y = \sqrt{x}$, $y = |x|$, в зависимости от значений коэффициентов, описывать свойства функций.

Строить и изображать схематически графики квадратичных функций, описывать свойства квадратичных функций по их графикам.

Распознавать квадратичную функцию по формуле, приводить примеры квадратичных функций из реальной жизни, физики, геометрии.

Числовые последовательности и прогрессии

Распознавать арифметическую и геометрическую прогрессии при разных способах задания.

Выполнять вычисления с использованием формул n -го члена арифметической и геометрической прогрессий, суммы первых n членов.

Изображать члены последовательности точками на координатной плоскости.

Решать задачи, связанные с числовыми последовательностями, в том числе задачи из реальной жизни (с использованием калькулятора, цифровых технологий).

ТЕМАТИЧЕСКОЕ ПЛАНИРОВАНИЕ
7 КЛАСС

№ п/п	Наименование разделов и тем программы	Количество часов			Электронные (цифровые) образовательные ресурсы
		Всего	Контрольные работы	Практические работы	
1	Числа и вычисления. Рациональные числа	25	1	0	Библиотека ЦОК https://m.edsoo.ru/7f415b90
2	Алгебраические выражения	27	1	0	Библиотека ЦОК https://m.edsoo.ru/7f415b90
3	Уравнения и неравенства	20	1	0	Библиотека ЦОК https://m.edsoo.ru/7f415b90
4	Координаты и графики. Функции	24	1	0	Библиотека ЦОК https://m.edsoo.ru/7f415b90
5	Повторение и обобщение	6	1	0	Библиотека ЦОК https://m.edsoo.ru/7f415b90
ОБЩЕЕ КОЛИЧЕСТВО ЧАСОВ ПО ПРОГРАММЕ		102	5	0	

8 КЛАСС

№ п/п	Наименование разделов и тем программы	Количество часов			Электронные (цифровые) образовательные ресурсы	Дополнительная информация
		Всего	Контрольные работы	Практические работы		
1	Числа и вычисления. Квадратные корни	15	0	0	Библиотека ЦОК https://m.edsoo.ru/7f417af8	
2	Числа и вычисления. Степень с целым показателем	7	0	0	Библиотека ЦОК https://m.edsoo.ru/7f417af8	
3	Алгебраические выражения. Квадратный трёхчлен	5	1	0	Библиотека ЦОК https://m.edsoo.ru/7f417af8	
4	Алгебраические выражения. Алгебраическая дробь	15	1	0	Библиотека ЦОК https://m.edsoo.ru/7f417af8	
5	Уравнения и неравенства. Квадратные уравнения	15	1	0	Библиотека ЦОК https://m.edsoo.ru/7f417af8	
6	Уравнения и неравенства. Системы уравнений	13	0	0	Библиотека ЦОК https://m.edsoo.ru/7f417af8	
7	Уравнения и неравенства. Неравенства	12	1	0	Библиотека ЦОК https://m.edsoo.ru/7f417af8	
8	Функции. Основные понятия	5	0	0	Библиотека ЦОК https://m.edsoo.ru/7f417af8	
9	Функции. Числовые функции	9	0	0	Библиотека ЦОК https://m.edsoo.ru/7f417af8	
10	Повторение и обобщение	6	1	0	Библиотека ЦОК https://m.edsoo.ru/7f417af8	

ОБЩЕЕ КОЛИЧЕСТВО ЧАСОВ ПО ПРОГРАММЕ	102	5	0	
-------------------------------------	-----	---	---	--

9 КЛАСС

№ п/п	Наименование разделов и тем программы	Количество часов			Электронные (цифровые) образовательные ресурсы
		Всего	Контрольные работы	Практические работы	
1	Числа и вычисления. Действительные числа	9	0	0	Библиотека ЦОК https://m.edsoo.ru/7f419d08
2	Уравнения и неравенства. Уравнения с одной переменной	14	1	0	Библиотека ЦОК https://m.edsoo.ru/7f419d08
3	Уравнения и неравенства. Системы уравнений	14	1	0	Библиотека ЦОК https://m.edsoo.ru/7f419d08
4	Уравнения и неравенства. Неравенства	16	1	0	Библиотека ЦОК https://m.edsoo.ru/7f419d08
5	Функции	16	1	0	Библиотека ЦОК https://m.edsoo.ru/7f419d08
6	Числовые последовательности	15	1	0	Библиотека ЦОК https://m.edsoo.ru/7f419d08
7	Повторение, обобщение, систематизация знаний	18	1	0	Библиотека ЦОК https://m.edsoo.ru/7f419d08
ОБЩЕЕ КОЛИЧЕСТВО ЧАСОВ ПО ПРОГРАММЕ		102	6	0	

ПОУРОЧНОЕ ПЛАНИРОВАНИЕ
7 КЛАСС

№ п/п	Тема урока	Количество часов			Электронные цифровые образовательные ресурсы
		Всего	Контрольные работы	Практические работы	
1	Понятие рационального числа	1			
2	Арифметические действия с рациональными числами	1			
3	Арифметические действия с рациональными числами	1			
4	Арифметические действия с рациональными числами	1			
5	Арифметические действия с рациональными числами	1			
6	Арифметические действия с рациональными числами	1			
7	Сравнение, упорядочивание рациональных чисел	1			
8	Сравнение, упорядочивание рациональных чисел	1			
9	Сравнение, упорядочивание рациональных чисел. Стартовая диагностика.	1			
10	Степень с натуральным показателем	1			Библиотека ЦОК https://m.edsoo.ru/7f4211de
11	Степень с натуральным показателем	1			Библиотека ЦОК

						https://m.edsoo.ru/7f421382
12	Степень с натуральным показателем	1				Библиотека ЦОК https://m.edsoo.ru/7f42154e
13	Степень с натуральным показателем	1				Библиотека ЦОК https://m.edsoo.ru/7f4218be
14	Степень с натуральным показателем	1				
15	Решение основных задач на дроби, проценты из реальной практики	1				
16	Решение основных задач на дроби, проценты из реальной практики	1				
17	Решение основных задач на дроби, проценты из реальной практики	1				
18	Решение основных задач на дроби, проценты из реальной практики	1				
19	Признаки делимости, разложения на множители натуральных чисел	1				
20	Признаки делимости, разложения на множители натуральных чисел	1				
21	Реальные зависимости. Прямая и обратная пропорциональности	1				
22	Реальные зависимости. Прямая и обратная пропорциональности	1				
23	Реальные зависимости. Прямая и обратная пропорциональности	1				
24	Реальные зависимости. Прямая и обратная пропорциональности	1				
25	Контрольная работа по теме "Рациональные числа"	1	1			

26	Буквенные выражения	1				Библиотека ЦОК https://m.edsoo.ru/7f41feec
27	Переменные. Допустимые значения переменных	1				
28	Формулы	1				
29	Формулы	1				
30	Преобразование буквенных выражений, раскрытие скобок и приведение подобных слагаемых	1				Библиотека ЦОК https://m.edsoo.ru/7f41fafa
31	Преобразование буквенных выражений, раскрытие скобок и приведение подобных слагаемых	1				Библиотека ЦОК https://m.edsoo.ru/7f41fd70
32	Преобразование буквенных выражений, раскрытие скобок и приведение подобных слагаемых	1				
33	Преобразование буквенных выражений, раскрытие скобок и приведение подобных слагаемых	1				
34	Свойства степени с натуральным показателем	1				Библиотека ЦОК https://m.edsoo.ru/7f421382
35	Свойства степени с натуральным показателем	1				Библиотека ЦОК https://m.edsoo.ru/7f42154e
36	Свойства степени с натуральным показателем	1				Библиотека ЦОК https://m.edsoo.ru/7f4218be
37	Многочлены	1				Библиотека ЦОК https://m.edsoo.ru/7f42276e
38	Многочлены	1				Библиотека ЦОК https://m.edsoo.ru/7f422930

39	Сложение, вычитание, умножение многочленов	1				Библиотека ЦОК https://m.edsoo.ru/7f422af2
40	Сложение, вычитание, умножение многочленов	1				Библиотека ЦОК https://m.edsoo.ru/7f422cc8
41	Сложение, вычитание, умножение многочленов	1				Библиотека ЦОК https://m.edsoo.ru/7f422fca
42	Сложение, вычитание, умножение многочленов	1				Библиотека ЦОК https://m.edsoo.ru/7f423182
43	Формулы сокращённого умножения	1				Библиотека ЦОК https://m.edsoo.ru/7f42432a
44	Формулы сокращённого умножения	1				Библиотека ЦОК https://m.edsoo.ru/7f42464a
45	Формулы сокращённого умножения	1				Библиотека ЦОК https://m.edsoo.ru/7f424c12
46	Формулы сокращённого умножения	1				Библиотека ЦОК https://m.edsoo.ru/7f424fd2
47	Формулы сокращённого умножения	1				Библиотека ЦОК https://m.edsoo.ru/7f4251d0
48	Разложение многочленов на множители	1				Библиотека ЦОК https://m.edsoo.ru/7f423312
49	Разложение многочленов на множители	1				Библиотека ЦОК https://m.edsoo.ru/7f4237fe
50	Разложение многочленов на множители	1				Библиотека ЦОК https://m.edsoo.ru/7f4239de
51	Разложение многочленов на множители	1				
52	Контрольная работа по теме "Алгебраические выражения"	1	1			

53	Уравнение, правила преобразования уравнения, равносильность уравнений	1				
54	Линейное уравнение с одной переменной, решение линейных уравнений	1				
55	Линейное уравнение с одной переменной, решение линейных уравнений	1				Библиотека ЦОК https://m.edsoo.ru/7f420482
56	Линейное уравнение с одной переменной, решение линейных уравнений	1				
57	Решение задач с помощью уравнений	1				Библиотека ЦОК https://m.edsoo.ru/7f42064e
58	Решение задач с помощью уравнений	1				Библиотека ЦОК https://m.edsoo.ru/7f420806
59	Решение задач с помощью уравнений	1				Библиотека ЦОК https://m.edsoo.ru/7f4209a0
60	Решение задач с помощью уравнений	1				Библиотека ЦОК https://m.edsoo.ru/7f420e6e
61	Линейное уравнение с двумя переменными и его график	1				Библиотека ЦОК https://m.edsoo.ru/7f427c32
62	Линейное уравнение с двумя переменными и его график	1				Библиотека ЦОК https://m.edsoo.ru/7f427e8a
63	Система двух линейных уравнений с двумя переменными	1				Библиотека ЦОК https://m.edsoo.ru/7f42836c
64	Система двух линейных уравнений с двумя переменными	1				

65	Система двух линейных уравнений с двумя переменными	1				
66	Система двух линейных уравнений с двумя переменными	1				
67	Решение систем уравнений	1				Библиотека ЦОК https://m.edsoo.ru/7f4284de
68	Решение систем уравнений	1				Библиотека ЦОК https://m.edsoo.ru/7f42865a
69	Решение систем уравнений	1				Библиотека ЦОК https://m.edsoo.ru/7f4287d6
70	Решение систем уравнений	1				
71	Решение систем уравнений	1				
72	Контрольная работа по теме "Линейные уравнения"	1	1			Библиотека ЦОК https://m.edsoo.ru/7f421044
73	Координата точки на прямой	1				Библиотека ЦОК https://m.edsoo.ru/7f41de76
74	Числовые промежутки	1				Библиотека ЦОК https://m.edsoo.ru/7f41dff2
75	Числовые промежутки	1				
76	Расстояние между двумя точками координатной прямой	1				
77	Расстояние между двумя точками координатной прямой	1				
78	Прямоугольная система координат на плоскости	1				Библиотека ЦОК https://m.edsoo.ru/7f41e16e
79	Прямоугольная система координат на плоскости	1				Библиотека ЦОК https://m.edsoo.ru/7f41e42a
80	Примеры графиков, заданных	1				Библиотека ЦОК

	формулами				https://m.edsoo.ru/7f41e8a8
81	Примеры графиков, заданных формулами	1			Библиотека ЦОК https://m.edsoo.ru/7f41ed80
82	Примеры графиков, заданных формулами	1			
83	Примеры графиков, заданных формулами	1			
84	Чтение графиков реальных зависимостей	1			Библиотека ЦОК https://m.edsoo.ru/7f41ea24
85	Чтение графиков реальных зависимостей	1			
86	Понятие функции	1			Библиотека ЦОК https://m.edsoo.ru/7f41ef06
87	График функции	1			
88	Свойства функций	1			Библиотека ЦОК https://m.edsoo.ru/7f41f078
89	Свойства функций	1			Библиотека ЦОК https://m.edsoo.ru/7f41f1fe
90	Линейная функция	1			Библиотека ЦОК https://m.edsoo.ru/7f427282
91	Итоговая контрольная работа. Промежуточная аттестация (ВПР)	1	1		
92	Линейная функция	1			Библиотека ЦОК https://m.edsoo.ru/7f427412
93	Построение графика линейной функции	1			Библиотека ЦОК https://m.edsoo.ru/7f426d1e
94	Построение графика линейной функции	1			

95	График функции $y = x $	1				
96	График функции $y = x $	1				
97	Контрольная работа по теме "Координаты и графики. Функции"	1	1			Библиотека ЦОК https://m.edsoo.ru/7f41f50a
98	Повторение основных понятий и методов курса 7 класса, обобщение знаний	1				Библиотека ЦОК https://m.edsoo.ru/7f429c6c
99	Повторение основных понятий и методов курса 7 класса, обобщение знаний	1				Библиотека ЦОК https://m.edsoo.ru/7f429f32
100	Повторение основных понятий и методов курса 7 класса, обобщение знаний	1				Библиотека ЦОК https://m.edsoo.ru/7f42a0e0
101	Повторение основных понятий и методов курса 7 класса, обобщение знаний	1				Библиотека ЦОК https://m.edsoo.ru/7f42a27a
102	Повторение основных понятий и методов курса 7 класса, обобщение знаний	1				Библиотека ЦОК https://m.edsoo.ru/7f42a900
ОБЩЕЕ КОЛИЧЕСТВО ЧАСОВ ПО ПРОГРАММЕ		102	5	0		

8 КЛАСС

№ п/п	Тема урока	Количество часов			Электронные цифровые образовательные ресурсы
		Всего	Контрольные работы	Практические работы	
1	Квадратный корень из числа	1			Библиотека ЦОК https://m.edsoo.ru/7f42d452
2	Понятие об иррациональном числе	1			Библиотека ЦОК https://m.edsoo.ru/7f42eaaa
3	Десятичные приближения иррациональных чисел	1			
4	Десятичные приближения иррациональных чисел	1			
5	Действительные числа	1			
6	Сравнение действительных чисел	1			
7	Сравнение действительных чисел	1			
8	Арифметический квадратный корень	1			
9	Уравнение вида $x^2 = a$	1			
10	Свойства арифметических квадратных корней	1			Библиотека ЦОК https://m.edsoo.ru/7f42d862
11	Свойства арифметических квадратных корней	1			Библиотека ЦОК https://m.edsoo.ru/7f42d862
12	Преобразование числовых выражений, содержащих	1			Библиотека ЦОК https://m.edsoo.ru/7f42dd26

	квадратные корни					
13	Преобразование числовых выражений, содержащих квадратные корни	1				Библиотека ЦОК https://m.edsoo.ru/7f42ded4
14	Преобразование числовых выражений, содержащих квадратные корни	1				Библиотека ЦОК https://m.edsoo.ru/7f42e0be
15	Преобразование числовых выражений, содержащих квадратные корни	1				Библиотека ЦОК https://m.edsoo.ru/7f42e262
16	Степень с целым показателем	1				Библиотека ЦОК https://m.edsoo.ru/7f4354a4
17	Стандартная запись числа. Размеры объектов окружающего мира (от элементарных частиц до космических объектов), длительность процессов в окружающем мире	1				Библиотека ЦОК https://m.edsoo.ru/7f436098
18	Свойства степени с целым показателем	1				Библиотека ЦОК https://m.edsoo.ru/7f435648
19	Свойства степени с целым показателем	1				Библиотека ЦОК https://m.edsoo.ru/7f435648
20	Свойства степени с целым показателем	1				Библиотека ЦОК https://m.edsoo.ru/7f435648
21	Свойства степени с целым показателем	1				Библиотека ЦОК https://m.edsoo.ru/7f43599a
22	Свойства степени с целым	1				Библиотека ЦОК

	показателем					https://m.edsoo.ru/7f435ed6
23	Квадратный трёхчлен	1				
24	Квадратный трёхчлен	1				
25	Разложение квадратного трёхчлена на множители	1				Библиотека ЦОК https://m.edsoo.ru/7f42fd38
26	Разложение квадратного трёхчлена на множители	1				Библиотека ЦОК https://m.edsoo.ru/7f42fd38
27	Контрольная работа по темам "Квадратные корни. Степени. Квадратный трёхчлен"	1	1			Библиотека ЦОК https://m.edsoo.ru/7f42ec80
28	Алгебраическая дробь	1				Библиотека ЦОК https://m.edsoo.ru/7f430382
29	Допустимые значения переменных, входящих в алгебраические выражения	1				
30	Допустимые значения переменных, входящих в алгебраические выражения	1				
31	Основное свойство алгебраической дроби	1				Библиотека ЦОК https://m.edsoo.ru/7f4308e6
32	Сокращение дробей	1				Библиотека ЦОК https://m.edsoo.ru/7f430a8a
33	Сокращение дробей	1				Библиотека ЦОК https://m.edsoo.ru/7f430f44
34	Сокращение дробей	1				Библиотека ЦОК https://m.edsoo.ru/7f430f44
35	Сложение, вычитание, умножение и деление	1				Библиотека ЦОК https://m.edsoo.ru/7f43128c

	алгебраических дробей				
36	Сложение, вычитание, умножение и деление алгебраических дробей	1			Библиотека ЦОК https://m.edsoo.ru/7f4315c0
37	Сложение, вычитание, умножение и деление алгебраических дробей	1			Библиотека ЦОК https://m.edsoo.ru/7f4318c2
38	Сложение, вычитание, умножение и деление алгебраических дробей	1			Библиотека ЦОК https://m.edsoo.ru/7f431a20
39	Преобразование выражений, содержащих алгебраические дроби	1			Библиотека ЦОК https://m.edsoo.ru/7f43259c
40	Преобразование выражений, содержащих алгебраические дроби	1			Библиотека ЦОК https://m.edsoo.ru/7f432736
41	Преобразование выражений, содержащих алгебраические дроби	1			Библиотека ЦОК https://m.edsoo.ru/7f432736
42	Контрольная работа по теме "Алгебраическая дробь"	1	1		Библиотека ЦОК https://m.edsoo.ru/7f431d36
43	Квадратное уравнение	1			Библиотека ЦОК https://m.edsoo.ru/7f42ee1a
44	Неполное квадратное уравнение	1			Библиотека ЦОК https://m.edsoo.ru/7f42ee1a
45	Неполное квадратное уравнение	1			Библиотека ЦОК https://m.edsoo.ru/7f42ee1a
46	Формула корней квадратного	1			Библиотека ЦОК

	уравнения				https://m.edsoo.ru/7f42f158
47	Формула корней квадратного уравнения	1			Библиотека ЦОК https://m.edsoo.ru/7f42f3f6
48	Формула корней квадратного уравнения	1			Библиотека ЦОК https://m.edsoo.ru/7f42f5a4
49	Теорема Виета	1			Библиотека ЦОК https://m.edsoo.ru/7f42fef0
50	Теорема Виета	1			Библиотека ЦОК https://m.edsoo.ru/7f430076
51	Решение уравнений, сводящихся к квадратным	1			Библиотека ЦОК https://m.edsoo.ru/7f43c542
52	Решение уравнений, сводящихся к квадратным	1			Библиотека ЦОК https://m.edsoo.ru/7f43c3d0
53	Простейшие дробно-рациональные уравнения	1			Библиотека ЦОК https://m.edsoo.ru/7f4328c6
54	Простейшие дробно-рациональные уравнения	1			Библиотека ЦОК https://m.edsoo.ru/7f432b6e
55	Решение текстовых задач с помощью квадратных уравнений	1			Библиотека ЦОК https://m.edsoo.ru/7f42f75c
56	Решение текстовых задач с помощью квадратных уравнений	1			Библиотека ЦОК https://m.edsoo.ru/7f42f8f6
57	Контрольная работа по теме "Квадратные уравнения"	1	1		Библиотека ЦОК https://m.edsoo.ru/7f4301f2
58	Линейное уравнение с двумя переменными, его график, примеры решения уравнений в	1			

	целых числах					
59	Линейное уравнение с двумя переменными, его график, примеры решения уравнений в целых числах	1				
60	Линейное уравнение с двумя переменными, его график, примеры решения уравнений в целых числах	1				
61	Решение систем двух линейных уравнений с двумя переменными	1				
62	Решение систем двух линейных уравнений с двумя переменными	1				
63	Решение систем двух линейных уравнений с двумя переменными	1				
64	Примеры решения систем нелинейных уравнений с двумя переменными	1				
65	Примеры решения систем нелинейных уравнений с двумя переменными	1				
66	Графическая интерпретация уравнения с двумя переменными и систем линейных уравнений с двумя	1				Библиотека ЦОК https://m.edsoo.ru/7f43d6d6

	переменными					
67	Графическая интерпретация уравнения с двумя переменными и систем линейных уравнений с двумя переменными	1				Библиотека ЦОК https://m.edsoo.ru/7f43d6d6
68	Решение текстовых задач с помощью систем уравнений	1				
69	Решение текстовых задач с помощью систем уравнений	1				
70	Решение текстовых задач с помощью систем уравнений	1				
71	Числовые неравенства и их свойства	1				
72	Числовые неравенства и их свойства	1				
73	Неравенство с одной переменной	1				
74	Линейные неравенства с одной переменной и их решение	1				Библиотека ЦОК https://m.edsoo.ru/7f42c692
75	Линейные неравенства с одной переменной и их решение	1				Библиотека ЦОК https://m.edsoo.ru/7f42c840
76	Линейные неравенства с одной переменной и их решение	1				
77	Системы линейных неравенств с одной переменной и их решение	1				Библиотека ЦОК https://m.edsoo.ru/7f42cb88
78	Системы линейных неравенств	1				Библиотека ЦОК

	с одной переменной и их решение					https://m.edsoo.ru/7f42cd2c
79	Системы линейных неравенств с одной переменной и их решение	1				
80	Изображение решения линейного неравенства и их систем на числовой прямой	1				Библиотека ЦОК https://m.edsoo.ru/7f42c9e4
81	Изображение решения линейного неравенства и их систем на числовой прямой	1				Библиотека ЦОК https://m.edsoo.ru/7f42c9e4
82	Контрольная работа по темам "Неравенства. Системы уравнений"	1	1			
83	Понятие функции	1				Библиотека ЦОК https://m.edsoo.ru/7f433c12
84	Область определения и множество значений функции	1				Библиотека ЦОК https://m.edsoo.ru/7f433d84
85	Способы задания функций	1				
86	График функции.	1				
87	Промежуточная аттестация.(ВПР)	1				
88	Свойства функции, их отображение на графике	1				
89	Чтение и построение графиков функций	1				
90	Примеры графиков функций, отражающих реальные	1				

	процессы					
91	Функции, описывающие прямую и обратную пропорциональные зависимости, их графики	1				Библиотека ЦОК https://m.edsoo.ru/7f434bbc
92	Гипербола	1				
93	Гипербола	1				
94	График функции $y = x^2$	1				Библиотека ЦОК https://m.edsoo.ru/7f4343e2
95	График функции $y = x^2$	1				Библиотека ЦОК https://m.edsoo.ru/7f434572
96	Функции $y = x^2$, $y = x^3$, $y = \sqrt{x}$, $y = x $; графическое решение уравнений и систем уравнений	1				Библиотека ЦОК https://m.edsoo.ru/7f434d38
97	Функции $y = x^2$, $y = x^3$, $y = \sqrt{x}$, $y = x $; графическое решение уравнений и систем уравнений	1				Библиотека ЦОК https://m.edsoo.ru/7f434eb4
98	Повторение основных понятий и методов курсов 7 и 8 классов, обобщение знаний	1				Библиотека ЦОК https://m.edsoo.ru/7f4371aa
99	Повторение основных понятий и методов курсов 7 и 8 классов, обобщение знаний	1				Библиотека ЦОК https://m.edsoo.ru/7f43736c
100	Повторение основных понятий и методов курсов 7 и 8 классов, обобщение знаний	1				Библиотека ЦОК https://m.edsoo.ru/7f437510
101	Повторение основных понятий и методов курсов 7 и 8 классов,	1				Библиотека ЦОК https://m.edsoo.ru/7f4376b4

	обобщение знаний					
102	Повторение основных понятий и методов курсов 7 и 8 классов, обобщение знаний	1				Библиотека ЦОК https://m.edsoo.ru/7f437858
ОБЩЕЕ КОЛИЧЕСТВО ЧАСОВ ПО ПРОГРАММЕ		102	5	0		

9 КЛАСС

№ п/п	Тема урока	Количество часов			Коррекционно-развивающий компонент	Электронные цифровые образовательные ресурсы
		Всего	Контрольные работы	Практические работы		
1	Рациональные числа, иррациональные числа, конечные и бесконечные десятичные дроби	1				
2	Множество действительных чисел; действительные числа как бесконечные десятичные дроби	1				
3	Взаимно однозначное соответствие между множеством действительных чисел и множеством точек координатной прямой	1				
4	Сравнение действительных чисел, арифметические действия с действительными числами	1				
5	Приближённое значение величины, точность приближения	1				
6	Округление чисел	1				
7	Округление чисел	1				
8	Прикидка и оценка результатов вычислений	1				

9	Прикидка и оценка результатов вычислений	1				
10	Линейное уравнение. Решение уравнений, сводящихся к линейным	1				Библиотек ЦОК https://m.edsoo.ru/7f43bf66
11	Линейное уравнение. Решение уравнений, сводящихся к линейным	1				
12	Квадратное уравнение. Решение уравнений, сводящихся к квадратным	1				Библиотека ЦОК https://m.edsoo.ru/7f43c542
13	Квадратное уравнение. Решение уравнений, сводящихся к квадратным	1				Библиотека ЦОК https://m.edsoo.ru/7f43c542
14	Биквадратные уравнения	1				Библиотека ЦОК https://m.edsoo.ru/7f43c3d0
15	Биквадратные уравнения	1				Библиотека ЦОК https://m.edsoo.ru/7f43c3d0
16	Примеры решения уравнений третьей и четвёртой степеней разложением на множители	1				
17	Примеры решения уравнений третьей и четвёртой степеней разложением на множители	1				
18	Решение дробно-рациональных уравнений	1				Библиотека ЦОК https://m.edsoo.ru/7f43c9b6
19	Решение дробно-рациональных уравнений	1				Библиотека ЦОК https://m.edsoo.ru/7f43c9b6

20	Решение текстовых задач алгебраическим методом	1				
21	Решение текстовых задач алгебраическим методом	1				
22	Решение текстовых задач алгебраическим методом	1				
23	Контрольная работа по теме "Уравнения с одной переменной"	1	1			
24	Уравнение с двумя переменными и его график	1				Библиотека ЦОК https://m.edsoo.ru/7f43d0b4
25	Уравнение с двумя переменными и его график	1				Библиотека ЦОК https://m.edsoo.ru/7f43d0b4
26	Система двух линейных уравнений с двумя переменными и её решение	1				
27	Система двух линейных уравнений с двумя переменными и её решение	1				
28	Система двух линейных уравнений с двумя переменными и её решение	1				
29	Система двух линейных уравнений с двумя переменными и её решение	1				
30	Решение систем двух уравнений, одно из которых линейное, а другое — второй степени	1				Библиотека ЦОК https://m.edsoo.ru/7f43d23a

31	Решение систем двух уравнений, одно из которых линейное, а другое — второй степени	1				Библиотека ЦОК https://m.edsoo.ru/7f43d55a
32	Решение систем двух уравнений, одно из которых линейное, а другое — второй степени	1				
33	Решение систем двух уравнений, одно из которых линейное, а другое — второй степени	1				
34	Графическая интерпретация системы уравнений с двумя переменными	1				
35	Решение текстовых задач алгебраическим способом	1				
36	Решение текстовых задач алгебраическим способом	1				
37	Контрольная работа по теме "Системы уравнений"	1	1			
38	Числовые неравенства и их свойства	1				
39	Числовые неравенства и их свойства	1				Библиотека ЦОК https://m.edsoo.ru/7f43ad5a
40	Линейные неравенства с одной переменной и их решение	1				Библиотека ЦОК https://m.edsoo.ru/7f43af08
41	Линейные неравенства с одной переменной и их решение	1				Библиотека ЦОК https://m.edsoo.ru/7f43af08
42	Линейные неравенства с одной переменной и их решение	1				Библиотека ЦОК https://m.edsoo.ru/7f43af08

43	Системы линейных неравенств с одной переменной и их решение	1				
44	Системы линейных неравенств с одной переменной и их решение	1				
45	Системы линейных неравенств с одной переменной и их решение	1				
46	Квадратные неравенства и их решение	1				Библиотека ЦОК https://m.edsoo.ru/7f43b098
47	Квадратные неравенства и их решение	1				Библиотека ЦОК https://m.edsoo.ru/7f43b21e
48	Квадратные неравенства и их решение	1				Библиотека ЦОК https://m.edsoo.ru/7f43b5a2
49	Квадратные неравенства и их решение	1				
50	Квадратные неравенства и их решение	1				
51	Графическая интерпретация неравенств и систем неравенств с двумя переменными	1				Библиотека ЦОК https://m.edsoo.ru/7f43b098
52	Графическая интерпретация неравенств и систем неравенств с двумя переменными	1				
53	Контрольная работа по теме "Неравенства"	1	1			
54	Квадратичная функция, её график и свойства	1				Библиотека ЦОК https://m.edsoo.ru/7f4396c6
55	Квадратичная функция, её график и свойства	1				Библиотека ЦОК https://m.edsoo.ru/7f439842

56	Квадратичная функция, её график и свойства	1				Библиотека ЦОК https://m.edsoo.ru/7f4399b4
57	Парабола, координаты вершины параболы, ось симметрии параболы	1				Библиотека ЦОК https://m.edsoo.ru/7f439eb4
58	Парабола, координаты вершины параболы, ось симметрии параболы	1				Библиотека ЦОК https://m.edsoo.ru/7f43a03a
59	Парабола, координаты вершины параболы, ось симметрии параболы	1				Библиотека ЦОК https://m.edsoo.ru/7f43a1ac
60	Парабола, координаты вершины параболы, ось симметрии параболы	1				Библиотека ЦОК https://m.edsoo.ru/7f43a31e
61	Парабола, координаты вершины параболы, ось симметрии параболы	1				Библиотека ЦОК https://m.edsoo.ru/7f43a526
62	Парабола, координаты вершины параболы, ось симметрии параболы	1				
63	Графики функций: $y = kx$, $y = kx + b$, $y = k/x$, $y = x^3$, $y = vx$, $y = x $	1				
64	Графики функций: $y = kx$, $y = kx + b$, $y = k/x$, $y = x^3$, $y = vx$, $y = x $	1				
65	Графики функций: $y = kx$, $y = kx + b$, $y = k/x$, $y = x^3$, $y = vx$, $y = x $	1				
66	Графики функций: $y = kx$, $y = kx + b$, $y = k/x$, $y = x^3$, $y = vx$, $y = x $	1				

67	Графики функций: $y = kx$, $y = kx + b$, $y = k/x$, $y = x^3$, $y = \sqrt{x}$, $y = x $	1				
68	Графики функций: $y = kx$, $y = kx + b$, $y = k/x$, $y = x^3$, $y = \sqrt{x}$, $y = x $	1				
69	Контрольная работа по теме "Функции"	1	1			Библиотека ЦОК https://m.edsoo.ru/7f43ab84
70	Понятие числовой последовательности	1				Библиотека ЦОК https://m.edsoo.ru/7f43e6c6
71	Задание последовательности рекуррентной формулой и формулой n-го члена	1				Библиотека ЦОК https://m.edsoo.ru/7f43ebda
72	Арифметическая и геометрическая прогрессии	1				Библиотека ЦОК https://m.edsoo.ru/7f43ed7e
73	Арифметическая и геометрическая прогрессии	1				Библиотека ЦОК https://m.edsoo.ru/7f43f3b4
74	Формулы n-го члена арифметической и геометрической прогрессий, суммы первых n членов	1				Библиотека ЦОК https://m.edsoo.ru/7f43f58a
75	Формулы n-го члена арифметической и геометрической прогрессий, суммы первых n членов	1				Библиотека ЦОК https://m.edsoo.ru/7f43ef2c
76	Формулы n-го члена арифметической и геометрической прогрессий, суммы первых n членов	1				Библиотека ЦОК https://m.edsoo.ru/7f43f0c6
77	Формулы n-го члена	1				Библиотека ЦОК

	арифметической и геометрической прогрессий, суммы первых n членов					https://m.edsoo.ru/7f43f72e
78	Формулы n -го члена арифметической и геометрической прогрессий, суммы первых n членов	1				Библиотека ЦОК https://m.edsoo.ru/7f43f8a0
79	Изображение членов арифметической и геометрической прогрессий точками на координатной плоскости	1				
80	Изображение членов арифметической и геометрической прогрессий точками на координатной плоскости	1				
81	Линейный и экспоненциальный рост	1				
82	Сложные проценты	1				Библиотека ЦОК https://m.edsoo.ru/7f43fe0e
83	Сложные проценты	1				Библиотека ЦОК https://m.edsoo.ru/7f4401a6
84	Контрольная работа по теме "Числовые последовательности"	1	1			Библиотека ЦОК https://m.edsoo.ru/7f4404f8
85	Повторение, обобщение и систематизация знаний. Запись, сравнение, действия с действительными числами,	1				

	числовая прямая					
86	Повторение, обобщение и систематизация знаний. Проценты, отношения, пропорции	1				
87	Повторение, обобщение и систематизация знаний. Округление, приближение, оценка	1				
88	Промежуточная аттестация в форме ОГЭ.					
89	Повторение, обобщение и систематизация знаний. Решение текстовых задач арифметическим способом	1				Библиотека ЦОК https://m.edsoo.ru/7f443b12
90	Повторение, обобщение и систематизация знаний. Решение текстовых задач арифметическим способом	1				Библиотека ЦОК https://m.edsoo.ru/7f443cd4
91	Повторение, обобщение и систематизация знаний. Решение текстовых задач арифметическим способом	1				Библиотека ЦОК https://m.edsoo.ru/7f443fea
92	Повторение, обобщение и систематизация знаний. Преобразование алгебраических выражений, допустимые значения	1				Библиотека ЦОК https://m.edsoo.ru/7f4441ca

93	Повторение, обобщение и систематизация знаний. Преобразование алгебраических выражений, допустимые значения	1				Библиотека ЦОК https://m.edsoo.ru/7f444364
94	Повторение, обобщение и систематизация знаний. Преобразование алгебраических выражений, допустимые значения	1				Библиотека ЦОК https://m.edsoo.ru/7f4446f2
95	Повторение, обобщение и систематизация знаний. Преобразование алгебраических выражений, допустимые значения	1				Библиотека ЦОК https://m.edsoo.ru/7f444a94
96	Повторение, обобщение и систематизация знаний. Функции: построение, свойства изученных функций	1				Библиотека ЦОК https://m.edsoo.ru/7f444c56
97	Повторение, обобщение и систематизация знаний. Функции: построение, свойства изученных функций	1				Библиотека ЦОК https://m.edsoo.ru/7f444f44
98	Повторение, обобщение и систематизация знаний. Функции: построение, свойства изученных функций	1				Библиотека ЦОК https://m.edsoo.ru/7f44516a
99	Повторение, обобщение и систематизация знаний.	1				Библиотека ЦОК https://m.edsoo.ru/7f4452e6

	Функции: построение, свойства изученных функций					
100	Повторение, обобщение и систематизация знаний. Графическое решение уравнений и их систем	1				Библиотека ЦОК https://m.edsoo.ru/7f445516
101	Повторение, обобщение и систематизация знаний. Графическое решение уравнений и их систем	1				
102	Обобщение и систематизация знаний	1				
ОБЩЕЕ КОЛИЧЕСТВО ЧАСОВ ПО ПРОГРАММЕ		102	6	0		

**УЧЕБНО-МЕТОДИЧЕСКОЕ ОБЕСПЕЧЕНИЕ ОБРАЗОВАТЕЛЬНОГО
ПРОЦЕССА**
ОБЯЗАТЕЛЬНЫЕ УЧЕБНЫЕ МАТЕРИАЛЫ ДЛЯ УЧЕНИКА

- Алгебра, 7 класс/ Макарычев Ю.Н., Миндюк Н.Г., Нешков К.И. и другие,
Акционерное общество «Издательство «Просвещение»
- Алгебра, 8 класс/ Макарычев Ю.Н., Миндюк Н.Г., Нешков К.И. и другие,
Акционерное общество «Издательство «Просвещение»
- Алгебра, 9 класс/ Макарычев Ю.Н., Миндюк Н.Г., Нешков К.И. и другие,
Акционерное общество «Издательство «Просвещение»

контрольно-измерительные материалы для 7 класса.

Входная контрольная работа по математике

для седьмого класса в двух вариантах.

Работа рассчитана на 40 минут урока.

Контрольная работа включает задания трех уровней. В заданиях первого уровня ученикам следует выбрать букву правильного ответа. В заданиях второго и третьего уровня нужно представить решения. Контроль знаний и умений учащихся по следующим разделам программы:

После проверки выполнения работы первого ученика учителем заполняется первый столбец в таблице 1. Если задание выполнено правильно, ставится 1 балл, если нет – ничего не ставится.

Наибольшая возможная сумма баллов равна 16. Отметка "3" ставится за 5-9 баллов, отметка "4" – за 10-13 баллов, отметка "5" – за 14-16 баллов.

После заполнения таблицы 1 следует заполнить таблицы 2 и 3

Результаты входной контрольной работы по математике в 7 классе

Общеобразовательное учреждение _____

Учитель _____ Класс _____

Учебник, по которому ведется преподавание _____

**Таблица 1. Результаты входной контрольной работы по математике
учеников 7 класса**

№ задания	Контроль представлений, знаний и умений учащихся по разделам программы	Отметка о выполнении заданий учениками				
		1	2	3	...	Итого
1	Сравнение чисел с разными знаками				...	
2	Правило знаков при умножении и делении чисел					
3	Признаки делимости					
4	Объем прямоугольного параллелепипеда (куба)					
5	Координаты точки на плоскости					
6	Действия с рациональными числами					
	6.1. Порядок действий в выражении					

	6.2. Деление обыкновенных дробей					
	6.3. Сложение чисел с разными знаками					
7	Задачи на пропорциональность					
	7.1. Запись пропорции (выражения)					
	7.2. Вычисления					
8	Решение уравнений					
	8.1. Алгоритм решения					
	8.2. Вычисления					
9	Задачи на проценты					
	9.1. Ход решения (формулы, выражения, уравнения)					
	9.2. Вычисления					
10	Пропорция					
	10.1. Выражение для отношения чисел					
	10.2. Вычисления					

Общеобразовательное учреждение _____

Учитель _____ Класс _____

Учебник, по которому ведется преподавание _____

Таблица 2. Результаты выполнения входной контрольной работы 7-ым классом

№ задания	Контроль представлений, знаний и умений учащихся по разделам программы	Результаты выполнения работы классом
1	Сравнение чисел с разными знаками	
2	Правило знаков при умножении и делении чисел	
3	Признаки делимости	
4	Объем прямоугольного параллелепипеда (куба)	
5	Координаты точки на плоскости	...
6	Действия с рациональными числами	
	6.1. Порядок действий в выражении	
	6.2. Деление обыкновенных дробей	
	6.3. Сложение чисел с разными знаками	
7	Задачи на пропорциональность	
	7.1. Запись пропорции (выражения)	
	7.2. Вычисления	
8	Решение уравнений	
	8.1. Алгоритм решения	
	8.2. Вычисления	
9	Задачи на проценты	
	9.1. Ход решения (формулы, выражения, уравнения)	
	9.2. Вычисления	
10	Пропорция	
	10.1. Выражение для отношения чисел	
	10.2. Вычисления	

Таблица 3. Отметки, выставленные за входную контрольную работу

Класс	Кол-во уч-ов	Отметки за итоговую контрольную работу			
		5	4	3	2
6	20				

Входная диагностическая работа по алгебре

ученика (ученицы) 7 класса

Вариант 2.

I уровень. В заданиях 1–5 укажите букву верного ответа.

1. Какое неравенство неверное?

- А. $5 > -3$ Б. $-1,7 > -1,5$ В. $-\frac{3}{7} < 0$ Г. $-9 < -6$

2. Значение какого выражения больше нуля?

- А. $(-1,5) \cdot (-2,9) \cdot (-15)$ Б. $\left(-\frac{5}{8}\right) : \left(-\frac{1}{4}\right) \cdot \left(-\frac{2}{15}\right)$ В. $(-3,9)^2 : (-1,3) \cdot (-7)$ Г. $0 \cdot (-6) : (-2)$

3. Какой из указанных цифр нужно заменить *, чтобы число 673^* делилось и на 3, и на 5?

- А. 0 Б. 2 В. 3 Г. 5

4. Чему равен объем куба с ребром 5 см?

- А. 5 см^3 Б. 15 см^3 В. 25 см^3 Г. 125 см^3

5. Какие координаты имеет точка M , расположенная на координатной плоскости на 7 единиц выше и на 5 единиц левее точки $L(-4; -2)$?

- А. $M(-3; 3)$ Б. $M(-3; -7)$ В. $M(-9; 5)$ Г. $M(1; 5)$

II уровень

6. Чему равно значение выражения $1,7 + 2\frac{4}{5} : \left(-\frac{7}{8}\right)$?

7. За какое время лыжник пройдет 15 км, если каждые 15 мин он проходит 4,5 км?

8. Решите уравнение $-\frac{3}{4}x - 2 = 3 - \frac{2}{3}x$.

III уровень

9. После повышения цен на 20% альбом стал стоить 96 рублей. Сколько стоил альбом до повышения цен?

10. Известно, что $\frac{0,25}{x} = \frac{2}{y}$. Найдите отношение x к y .

**Входная диагностическая работа по алгебре
ученика (ученицы) 7 класса**

Вариант 1.

I уровень. В заданиях 1–5 укажите букву верного ответа.

1. Какое неравенство неверное?

А. $5,2 > -3,1$ **Б.** $-5 < -1$ **В.** $0 > -\frac{5}{9}$ **Г.** –

$4,5 < -4,6$

2. Значение какого выражения меньше нуля?

А. $(-1,5) \cdot (-2,9) \cdot 15$ **Б.** $\left(-\frac{5}{8}\right) : \left(-\frac{1}{4}\right) \cdot \frac{2}{15}$ **В.** $(-3,9)^2 : (-1,3) \cdot 7$ **Г.** $0 \cdot (-6) :$

(-1)

3. Какой из указанных цифр нужно заменить *, чтобы число 571^* делилось и на 2, и на 3?

А. 5 **Б.** 6 **В.** 7 **Г.** 8

4. Чему равен объем прямоугольного параллелепипеда с ребрами 3 см, 4 см и 5 см?

А. 12 см^3 **Б.** 35 см^3 **В.** 60 см^3 **Г.** 48 см^3

5. Какие координаты имеет точка D , расположенная на координатной плоскости на 7 единиц ниже и на 5 единиц правее точки $K(-4; -2)$?

А. $D(-3; 3)$
 $3; -7)$

Б. $D(1; -9)$

В. $D(-9; 5)$

Г. $D(-$

II уровень

6. Чему равно значение выражения $0,27 - 1\frac{1}{3} : \frac{8}{9}$?

7. В 2,5 кг сиропа содержится 1,2 кг сахара. Сколько сахара в 3 кг такого сиропа?

8. Решите уравнение $-\frac{2}{3}x + 4 = 3 - \frac{1}{2}x$.

III уровень

9. Когда 60 пассажиров заняли в автобусе свои места, остались свободными 20% всех мест. Сколько мест в автобусе?

10. Известно, что $15x = 20y$. Найдите отношение x к y .

Промежуточная аттестация 7 класс

ВПР по математике за 7 класс, комплект 1 вариант 1

Инструкция по выполнению всероссийской проверочной работы

- На выполнение работы по математике даётся 90 минут. Работа содержит 16 заданий.
- В заданиях, после которых есть поле со словом «Ответ», запиши ответ в указанном месте.
- В заданиях 12 нужно отметить и обозначить точки на числовой прямой. В задании 15 — построить схематично график.
- В заданиях, после которых есть поле со словами «Решение» и «Ответ», запиши решение и ответ в указанном месте.
- Если ты хочешь изменить ответ — зачеркни его и запиши рядом новый.
- Пользоваться учебниками, рабочими тетрадями, справочниками и калькулятором нельзя.

- При необходимости можно пользоваться черновиком. Записи в черновике не проверяют и не оценивают.
- Рекомендуем выполнять задания по порядку. Чтобы сэкономить время, пропускай задание, которое не удаётся выполнить сразу, и переходи к следующему. Не забудь вернуться позже.
- Постарайся выполнить как можно больше заданий.

Задания

1. Найдите значение выражения $5/6$

$+7/12: 7/2$.Ответ:

2. Найдите значение выражения

$2,6 - 8,4$

$2,5$.Ответ:

3. В таблице показано соответствие размеров женской обуви в России, Европейском союзе, Великобритании и США.

Россия	35	36	37	38	39	40	41
Европейский союз	36	37	38	39	40	41	42
Великобритания	3,5	4	5	6	6,5	7	8
США	5	5,5	6,5	7,5	8	8,5	9,5

Покупательница носит туфли 37-го размера по российской системе. Какого размера туфли ей нужно спросить, если она зашла в обувной магазин во Франции?

Ответ:

4. Трактор едет по дороге, проезжая 10 метров за каждую секунду. Выразите скорость трактора в километрах в час.

Ответ:

5. Ежемесячная плата за телефон составляет 280 рублей в месяц. Сколько рублей составит ежемесячная плата за телефон, если она вырастет на 5%?

Ответ:

6. Катя младше Тани, но старше Даши. Ксюша не младше Даши. Выберите утверждения, которые верны при указанных условиях, и запишите в ответе их номера.

1) Таня и Даша одного возраста.

2) Среди названных четырёх девочек нет никого младше Даши.

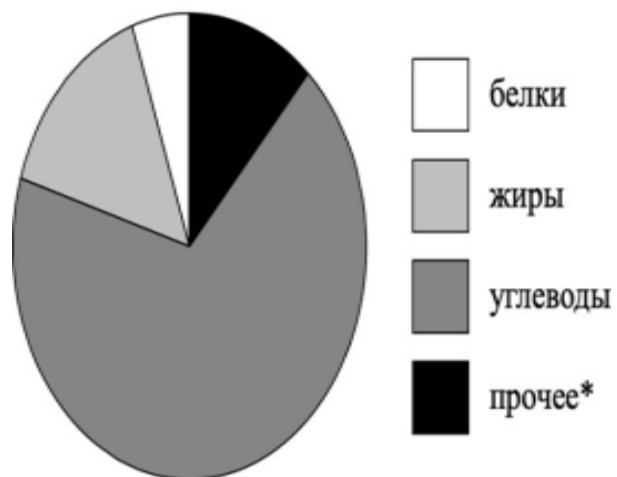
3) Таня старше Даши.

4) Таня и Катя одного

возраста. Ответ:

7. На диаграмме показано содержание питательных веществ в овсяном печенье.

Овсяное печенье

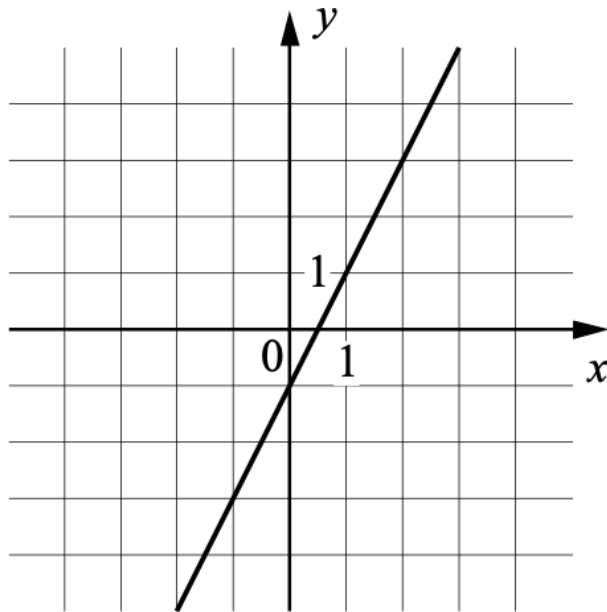


К прочему относятся вода, витамины и минеральные вещества.

Определите по диаграмме, сколько примерно жиров содержится в 100 г овсяного печенья.

Ответ:

8. На рисунке изображён график линейной функции. Напишите формулу, которая задаёт эту линейную функцию.



1. Решите уравнение $2 + 3x = -2x$

-13. Ответ:

2. Прочтите текст.

Байкал — самое глубокое озеро на планете. Наибольшая глубина Байкала – 1642 метра. Байкал находится в Сибири между Иркутской областью и Республикой

Бурятия. Живописные берега озера тянутся на 2000 километров, а площадь водной поверхности составляет 31 722 кв. км. Прибрежные территории отличаются уникальным разнообразием флоры и фауны. Вода в Байкале удивительно прозрачна: видно дно на глубине 40 метров. Запасы пресной воды в Байкале огромны: объём озера – 23 615 куб. км. Байкал является частью огромной экологической системы, охватывающей сотни тысяч квадратных километров. Специалисты считают, что снижение уровня воды в Байкале даже на 10 см приведёт к необратимым катастрофическим последствиям для всей Восточной Сибири. Есть план построить на берегу озера завод, который будет выпускать байкальскую воду в бутылках. Экологи сильно обеспокоены сложившейся ситуацией.

Предположим, что завод будет выпускать 20 миллионов пятилитровых бутылок в год. Будет ли заметно понижение уровня воды в Байкале, вызванное деятельностью завода в течение трёх лет? Ответ обоснуйте.

Решение:

Ответ:

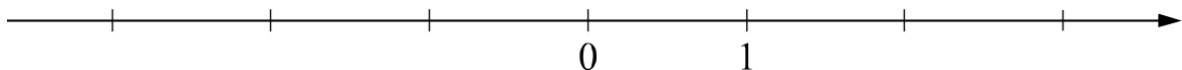
3. Найдите значение выражения $(4-y)^2 - y(y+1)$ при

$y = -1/9$. Ответ:

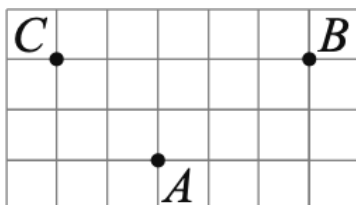
$$\left(-2\frac{7}{9}\right)$$

4. Отметьте и подпишите на координатной прямой точки А (1,6), В и С

(-2,75). Ответ:



5. На клетчатой бумаге с размером клетки 1×1 отмечены три точки: А, В и С. Найдите расстояние от точки А до прямой ВС.



Ответ:

6. В треугольнике ABC проведена биссектриса CE. Найдите величину угла ВСЕ, если

$\angle BAC = 46^\circ$ и $\angle ABC = 78^\circ$.

Решение:

Ответ:

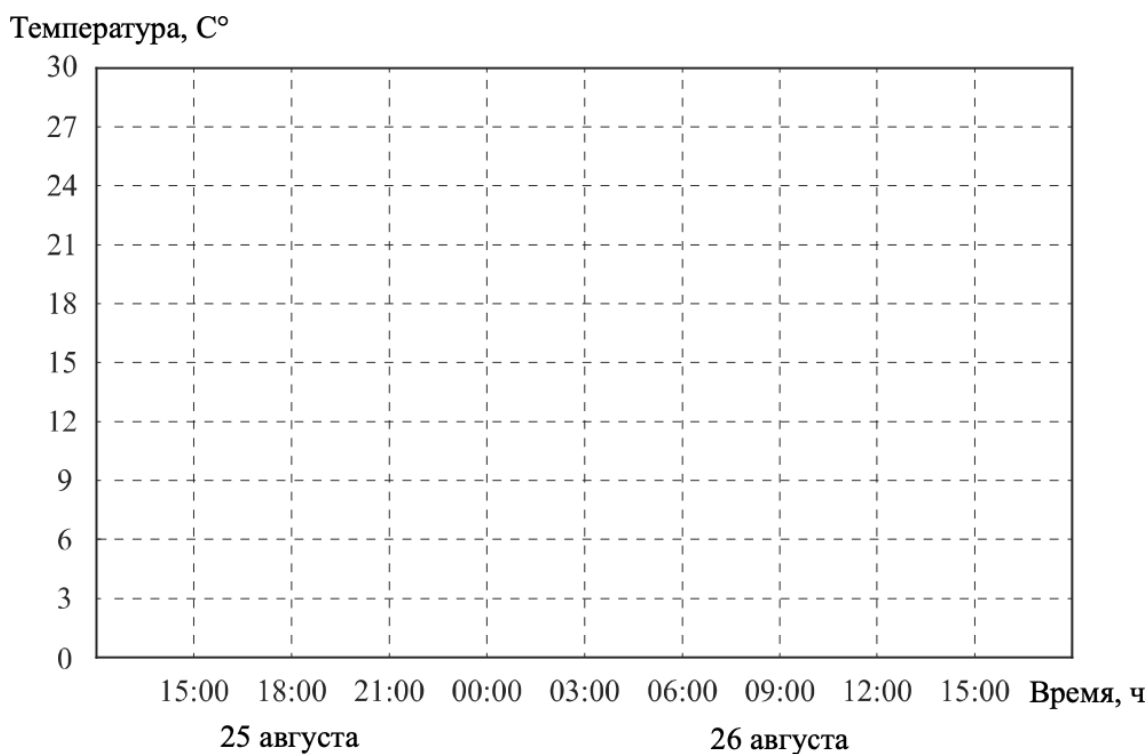
7. Прочтите текст.

К трём часам дня 25 августа воздух прогрелся до $+27^\circ\text{C}$, а затем температура начала быстро снижаться и за три часа опустилась на 9 градусов. Повеяло вечерней прохладой. Температура опускалась всё медленнее, и к девяти часам

вечера воздух остыл до 15° . К полуночи неожиданно потеплело на 3 градуса, но ветер снова сменил направление, и к 3 часам ночи температура воздуха опустилась до 12 градусов, а к восходу (в 6 часов утра) похолодало ещё на 3 градуса. Когда рассвело, воздух снова начал прогреваться, но такой жары, как накануне, 26 августа уже не случилось: в полдень было пасмурно, и термометры показывали всего 15°C , а в 15:00 температура оказалась на 6 градусов ниже, чем в это же время накануне.

По описанию постройте схематично график изменения температуры в течение суток с 15:00 25 августа до 15:00 26 августа.

Ответ:



8. Первый участок пути протяженностью 120 км автомобиль проехал со скоростью 80 км/ч, следующие 75 км — со скоростью 50 км/ч, а последние 110 км — со скоростью 55 км/ч. Найдите среднюю скорость автомобиля на протяжении всего пути. Запишите решение и ответ.

Решение: Ответ

8 класс

Промежуточная аттестация

Проверочная работа по МАТЕМАТИКЕ

8 класс

Вариант 1

Инструкция по выполнению работы

На выполнение работы по математике даётся 90 минут. Работа содержит 19 заданий.

В заданиях, после которых есть поле со словом «Ответ», запишите ответ в указанном месте.

В заданиях, после которых есть поле со словами «Решение» и «Ответ», запишите решение и ответ в указанном месте.

В заданиях 4 и 8 нужно отметить точки на числовой прямой.

Если Вы хотите изменить ответ, зачеркните его и запишите рядом другой.

При выполнении работы нельзя пользоваться учебниками, рабочими тетрадями, справочниками, калькулятором.

При необходимости можно пользоваться черновиком. Записи в черновике проверяться и оцениваться не будут.

Советуем выполнять задания в том порядке, в котором они даны. Для экономии времени пропускайте задание, которое не удаётся выполнить сразу, и переходите к следующему. Постарайтесь выполнить как можно больше заданий.

Желаем успеха!

Заполняется учителем, экспертом или техническим специалистом

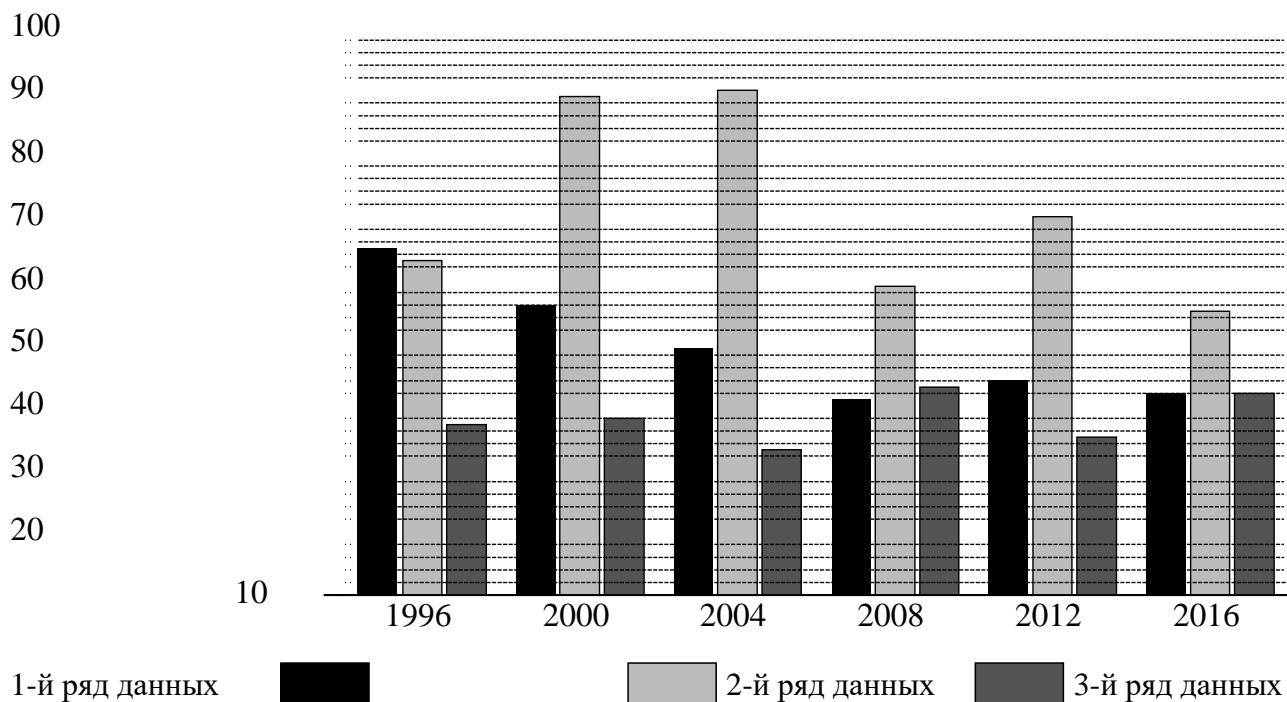
Обратите внимание: в случае, если какие-либо задания не могли быть выполнены целым классом по причинам, связанным с отсутствием соответствующей темы в реализуемой школой образовательной программе, в форме сбора результатов ВПР всем обучающимся класса за данное задание вместо балла выставляется значение «Тема не пройдена». В соответствующие ячейки таблицы заполняется н/п.

Таблица для внесения баллов участника

Номер задания	1	2	3	4	5	6	7	8	9	10	11	12	13	14	15
Баллы															
			16(1)	16(2)	17	18	19	Сумма балло	Отметка за работу						

Летние Олимпийские игры — это спортивные соревнования, проходящие один раз в 4 года под руководством Международного олимпийского комитета. Первые Олимпийские игры современности прошли в 1896 году в Афинах, в них принимало участие 14 стран и было представлено 9 видов спорта. В 2016 году на XXXI Олимпийских играх в Рио-де-Жанейро присутствовало 207 команд, соревнующихся в 28 видах спорта.

На диаграмме три ряда данных показывают общее количество медалей по итогам летних Олимпийских игр, завоёванных в период с 1996 по 2016 год, командами трёх стран: России, Германии и Франции. Рассмотрите диаграмму и прочтите фрагмент сопровождающей статьи.



Команда Германии впервые приняла участие в Олимпийских играх в 1896 году в Афинах. Всего немецкие спортсмены завоевали 1304 медали на летних Олимпийских играх, из них больше всего по плаванию и лёгкой атлетике. Тем не менее с 1992 по 2008 год количество ~~2008 году~~ завоёванных олимпийской командой Германии ~~уменьшалось год от года~~ медалей на Олимпийских играх у немецких спортсменов был почти один и тот же.

Франция принимала участие во всех Олимпийских играх современности и 5 раз была хозяйкой Олимпийских игр. В 2024 году Париж вновь примет Олимпийские игры. В общем медальном зачёте команда Франции ~~выглядит достойно~~. С 1996 по 2016 год количество завоёванных ею медалей колеблется от 33 до 43. Наилучший результат за представленный на диаграмме период был показан на Олимпиаде в Пекине в 2008 году.

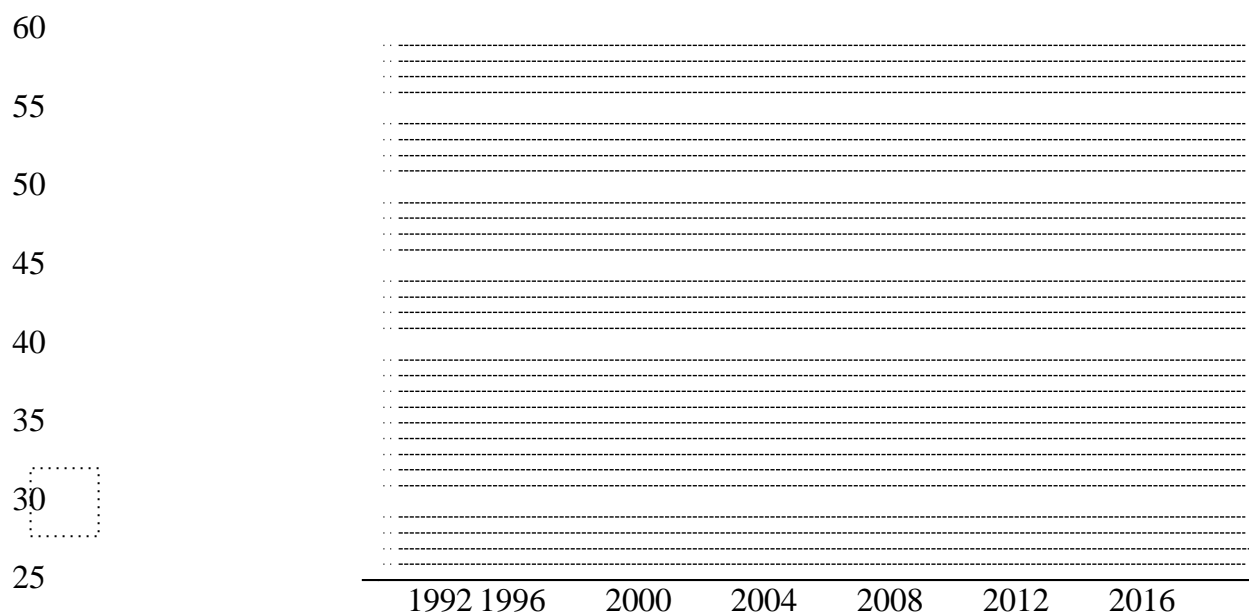
Россия впервые приняла участие в Олимпийских играх в 1900 году — в летней парижской Олимпиаде. Из российских спортсменов первую олимпийскую золотую медаль завоевал в 1908 году фигурист Николай Панин-Коломенкин на IV Олимпиаде в Лондоне. Россия очень хорошо выступила на Олимпиаде в Афинах в 2004 году, где получила 90 медалей. А в 2016 году Россия смогла завоевать лишь 55 медалей.

Сборная команда Австралии впервые приняла участие в Олимпийских играх в 1896 году и после этого участвовала во всех летних Олимпийских играх современности. В 1956 и 2000 годах Австралия становилась хозяйкой летних Олимпийских игр. Игры 2000 года стали самыми успешными в истории Австралии, они принесли австралийским спортсменам 58 медалей. Это на 17 медалей больше, чем в 1996 году, и на 31 медаль больше, чем в 1992 году. После 2000 года количество медалей, завоеванных австралийской командой, постоянно уменьшалось. В 2004 году команда Австралии завоевала на 8 медалей меньше, чем в 2000-м, а в 2008 году — на 4 медали меньше, чем на предыдущей летней Олимпиаде. К 2016 году число завоеванных медалей снизилось до 29, что на 6 меньше, чем в 2012 году.

- 1) На основании прочитанного определите номер ряда данных на диаграмме, который соответствует количеству медалей, завоеванных командой Германии на летних Олимпийских играх.

Ответ: _____

- 2) По имеющемуся описанию постройте схематично диаграмму общего количества медалей, завоеванных командой Австралии на летних Олимпийских играх в 1992–2016 годах.



17) В прямоугольной трапеции $ABCD$ с основаниями AD и BC диагональ AC является биссектрисой угла A , равного 45° . Найдите длину диагонали BD , если меньшее основание трапеции равно $8\sqrt{2}$.

Запишите решение и ответ.

Решение.

Ответ:

Алексей Юрьевич решил построить на дачном участке теплицу длиной $NP = 4,5$ м. Для этого он сделал прямоугольный фундамент. Для каркаса теплицы Алексей Юрьевич заказывает металлические дуги в форме полуокружностей длиной 5,2 м каждая и плёнку для обтяжки. В передней стенке планируется вход, показанный на рисунке прямоугольником $ACDB$. Точки A и B — середины отрезков MO и ON соответственно.

2. Найдите примерную ширину MN теплицы в метрах. Число π возьмите равным 3,14. Результат округлите до десятых.

3. Найдите примерную площадь участка внутри теплицы в квадратных метрах. Ответ округлите до целых.

4. Сколько квадратных метров плёнки нужно купить для теплицы с учётом передней и задней стенок, включая дверь? Для крепежа плёнку нужно покупать с запасом 10 %. Число π возьмите равным 3,14. Ответ округлите до целых.

5. Найдите примерную высоту входа в теплицу в метрах. Число π возьмите равным 3,14. Ответ округлите до десятых.

6. Найдите значение выражения

7. На координатной прямой изображены числа a и c . Какое из следующих неравенств неверно?

1)

2)

3)

4)

8. Найдите значение выражения: если

9. Решите уравнение

Если корней несколько, запишите их в ответ без пробелов в порядке возрастания.

10. Записан рост (в сантиметрах) пяти учащихся: 158, 166, 134, 130, 132. На сколько отличается среднее арифметическое этого набора чисел от его медианы?

11. Найдите значение k по графику функции изображенному на рисунке.

12. Площадь ромба можно вычислить по формуле где — диагонали ромба (в метрах). Пользуясь этой формулой, найдите диагональ если диагональ равна 30 м, а площадь ромба 120 м².

13. Укажите неравенство, которое не имеет решений.

В ответе укажите номер правильного варианта.

1) $x^2 - 64 \leq 0$

2) $x^2 + 64 \geq 0$

3) $x^2 - 64 \geq 0$

4) $x^2 + 64 \leq 0$

14. Вика решила начать делать зарядку каждое утро. В первый день она сделала 30 приседаний, а в каждый следующий день она делала на одно и то же количество приседаний больше, чем в предыдущий день. За 15 дней она сделала всего 975 приседаний. Сколько приседаний сделала Вика в пятый день?

15. Высота равностороннего треугольника равна Найдите его периметр.

16. Боковая сторона равнобедренного треугольника равна 4. Угол при вершине, противолежащий основанию, равен 120°. Найдите диаметр окружности, описанной около этого треугольника.

17. Периметр ромба равен 40, а один из углов равен 30°. Найдите площадь ромба.

18. На клетчатой бумаге с размером клетки 1×1 изображён ромб. Найдите площадь этого ромба.

19. Какие из следующих утверждений верны?

- 1) Если при пересечении двух прямых третьей прямой внутренние накрест лежащие углы составляют в сумме 90° , то эти две прямые параллельны.
- 2) Если угол равен 60° , то смежный с ним равен 120° .
- 3) Если при пересечении двух прямых третьей прямой внутренние односторонние углы равны 70° и 110° , то эти две прямые параллельны.
- 4) Через любые три точки проходит не более одной прямой.

Если утверждений несколько, запишите их номера в порядке возрастания.

20. Разложите на множители:
21. Железнодорожный состав длиной в 1 км прошёл бы мимо столба за 1 мин., а через туннель (от входа локомотива до выхода последнего вагона) при той же скорости — за 3 мин. Какова длина туннеля (в км)?
22. Постройте график функции и определите, при каких значениях m прямая имеет с графиком ровно одну общую точку.
23. Биссектрисы углов A и B параллелограмма $ABCD$ пересекаются в точке K . Найдите площадь параллелограмма, если $BC = 19$, а расстояние от точки K до стороны AB равно 7.
24. На стороне AC треугольника ABC выбраны точки D и E так, что отрезки AD и CE равны (см. рис.). Оказалось, что отрезки BD и BE тоже равны. Докажите, что треугольник ABC — равнобедренный.
25. Вершины ромба расположены на сторонах параллелограмма, а стороны ромба параллельны диагоналям параллелограмма. Найдите отношение площадей ромба и параллелограмма, если отношение диагоналей параллелограмма равно 28.

Алексей Юрьевич решил построить на дачном участке теплицу длиной $NP = 4,5$ м. Для этого он сделал прямоугольный фундамент. Для каркаса теплицы Алексей Юрьевич заказывает металлические дуги в форме полуокружностей длиной 5,2 м каждая и плёнку для обтяжки. В передней стенке планируется вход, показанный на рисунке прямоугольником $ACDB$. Точки A и B — середины отрезков MO и ON соответственно.

2. Найдите примерную ширину MN теплицы в метрах. Число π возьмите равным 3,14. Результат округлите до десятых.

3. Найдите примерную площадь участка внутри теплицы в квадратных метрах. Ответ округлите до целых.

4. Сколько квадратных метров плёнки нужно купить для теплицы с учётом передней и задней стенок, включая дверь? Для крепежа плёнку нужно покупать с запасом 10 %. Число π возьмите равным 3,14. Ответ округлите до целых.

5. Найдите примерную высоту входа в теплицу в метрах. Число π возьмите равным 3,14. Ответ округлите до десятых.

6. Найдите значение выражения $\frac{6,5}{1,3}$.

7. На координатной прямой изображены числа a и c . Какое из следующих неравенств неверно?

1) $a - 1 > c - 1$

2) $-a < -c$

3) $\frac{a}{6} < \frac{c}{6}$

4) $a + 3 > c + 1$

8. Найдите значение выражения: $\frac{4x - 25y}{2\sqrt{x} - 5\sqrt{y}} - 3\sqrt{y}$, если $\sqrt{x} + \sqrt{y} = 4$

9. Решите уравнение $x^2 = 2x + 8$.

Если корней несколько, запишите их в ответ без пробелов в порядке возрастания.

10. Записан рост (в сантиметрах) пяти учащихся: 158, 166, 134, 130, 132. На сколько отличается среднее арифметическое этого набора чисел от его медианы?

11. Найдите значение k по графику функции $y = \frac{k}{x}$, изображенному на рисунке.

12. Площадь ромба S (в м^2) можно вычислить по формуле $S = \frac{1}{2}d_1d_2$, где d_1, d_2 — диагонали ромба (в метрах). Пользуясь этой формулой, найдите диагональ d_1 , если диагональ d_2 равна 30 м, а площадь ромба 120 м^2 .

13. Укажите неравенство, которое не имеет решений.

В ответе укажите номер правильного варианта.

- 1) $x^2 - 64 \leq 0$
- 2) $x^2 + 64 \geq 0$
- 3) $x^2 - 64 \geq 0$
- 4) $x^2 + 64 \leq 0$

14. Вика решила начать делать зарядку каждое утро. В первый день она сделала 30 приседаний, а в каждый следующий день она делала на одно и то же количество приседаний больше, чем в предыдущий день. За 15 дней она сделала всего 975 приседаний. Сколько приседаний сделала Вика в пятый день?

15. Высота равностороннего треугольника равна $15\sqrt{3}$. Найдите его периметр.

16. Боковая сторона равнобедренного треугольника равна 4. Угол при вершине, противолежащий основанию, равен 120° . Найдите диаметр окружности, описанной около этого треугольника.

17. Периметр ромба равен 40, а один из углов равен 30° . Найдите площадь ромба.

18. На клетчатой бумаге с размером клетки 1×1 изображён ромб. Найдите площадь этого ромба.

19. Какие из следующих утверждений верны?

- 1) Если при пересечении двух прямых третьей прямой внутренние накрест лежащие углы составляют в сумме 90° , то эти две прямые параллельны.
- 2) Если угол равен 60° , то смежный с ним равен 120° .

3) Если при пересечении двух прямых третьей прямой внутренние односторонние углы равны 70° и 110° , то эти две прямые параллельны.

4) Через любые три точки проходит не более одной прямой.

Если утверждений несколько, запишите их номера в порядке возрастания.

20. Разложите на множители: $x^2y + 1 - x^2 - y$.

Критерии оценивания выполнения задания	Баллы
Правильно выполнены преобразования, получен верный ответ	2
Решение доведено до конца, но допущена ошибка вычислительного характера или описка, с её учётом дальнейшие шаги выполнены верно	1
Другие случаи, не соответствующие указанным критериям.	0
<i>Максимальный балл</i>	2

21. Железнодорожный состав длиной в 1 км прошёл бы мимо столба за 1 мин., а через туннель (от входа локомотива до выхода последнего вагона) при той же скорости — за 3 мин. Какова длина туннеля (в км)?

Критерии оценивания выполнения задания	Баллы
Получен верный обоснованный ответ	2
При верных рассуждениях допущена вычислительная ошибка, возможно приведшая к неверному ответу	1
Другие случаи, не соответствующие указанным критериям	0
<i>Максимальный балл</i>	2

22. Постройте график функции $y = \frac{1}{2} \left(\left| \frac{x}{3,5} - \frac{3,5}{x} \right| + \frac{x}{3,5} + \frac{3,5}{x} \right)$

определите, при каких значениях m прямая $y = m$ имеет с графиком ровно одну общую точку.

Критерии оценивания выполнения задания	Баллы
График построен правильно, верно указаны все значения m , при которых прямая $y = m$ имеет с	2

графиком ровно одну общую точку.

График построен правильно, указаны не все верные значения m . 1

Другие случаи, не соответствующие указанным выше критериям. 0

Максимальный балл 2

23. Биссектрисы углов A и B параллелограмма $ABCD$ пересекаются в точке K . Найдите площадь параллелограмма, если $BC = 19$, а расстояние от точки K до стороны AB равно 7.

Критерии оценивания выполнения задания	Баллы
Получен верный обоснованный ответ	2
При верных рассуждениях допущена вычислительная ошибка, возможно приведшая к неверному ответу	1
Другие случаи, не соответствующие указанным критериям	0
<i>Максимальный балл</i>	2

24. На стороне AC треугольника ABC выбраны точки D и E так, что отрезки AD и CE равны (см. рис.). Оказалось, что отрезки BD и BE тоже равны. Докажите, что треугольник ABC — равнобедренный.

Критерии оценивания выполнения задания	Баллы
Доказательство верное, все шаги обоснованы	2
Доказательство в целом верное, но содержит неточности	1
Другие случаи, не соответствующие указанным критериям	0
<i>Максимальный балл</i>	2

25. Вершины ромба расположены на сторонах параллелограмма, а стороны ромба параллельны диагоналям параллелограмма. Найдите отношение площадей ромба и параллелограмма, если отношение диагоналей параллелограмма равно 28.